

INGENIERÍA DE COMPUTADORES III

Solución al Ejercicio de Autocomprobación 10

PREGUNTA 1 (1.5 puntos)

Dibuje el diagrama conceptual correspondiente a:

1.a) (0.75 puntos) Las sentencias **if** anidadas siguientes:

```
if boolean_expr_1 then
  if boolean_expr_2 then
    a <= valor_expr_a_1;
  else
    a <= valor_expr_a_2;
  end if;
else
  if boolean_expr_3 then
    a <= valor_expr_a_3;
  else
    a <= valor_expr_a_4;
  end if;
end if;
```

1.b) (0.75 puntos) La sentencia **case** siguiente, suponiendo que `expr_case` tiene cinco posibles valores: `c0`, `c1`, `c2`, `c3` y `c4`.

```
case expr_case is
  when c0 =>
    a <= valor_expr_a_0;
    b <= valor_expr_b_0;
  when c1 =>
    a <= valor_expr_a_1;
    b <= valor_expr_b_1;
  when others =>
    a <= valor_expr_a_n;
    b <= valor_expr_b_n;
end case;
```

Solución a la Pregunta 1

En las Figuras 1.1 y 1.2 se muestran los diagramas conceptuales.

```

if boolean_expr_1 then
  if boolean_expr_2 then
    a <= valor_expr_a_1;
  else
    a <= valor_expr_a_2;
  end if;
else
  if boolean_expr_3 then
    a <= valor_expr_a_3;
  else
    a <= valor_expr_a_4;
  end if;
end if;
    
```

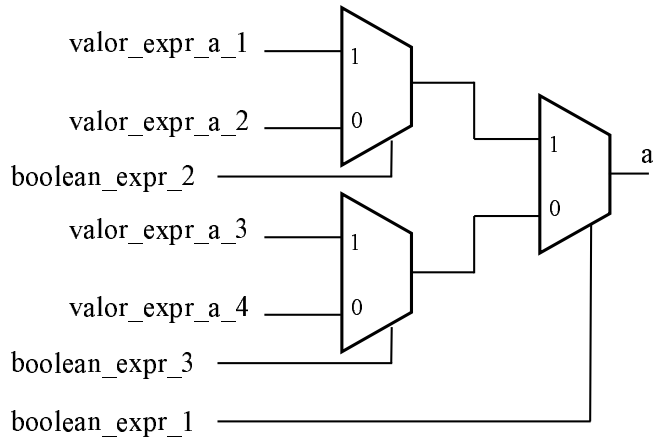


Figura 1.1: Solución a la Pregunta 1.a: sentencia **if** con su diagrama conceptual.

```

case expr_case is
  when c0 =>
    a <= valor_expr_a_0;
    b <= valor_expr_b_0;
  when c1 =>
    a <= valor_expr_a_1;
    b <= valor_expr_b_1;
  when others =>
    a <= valor_expr_a_n;
    b <= valor_expr_b_n;
end case;
    
```

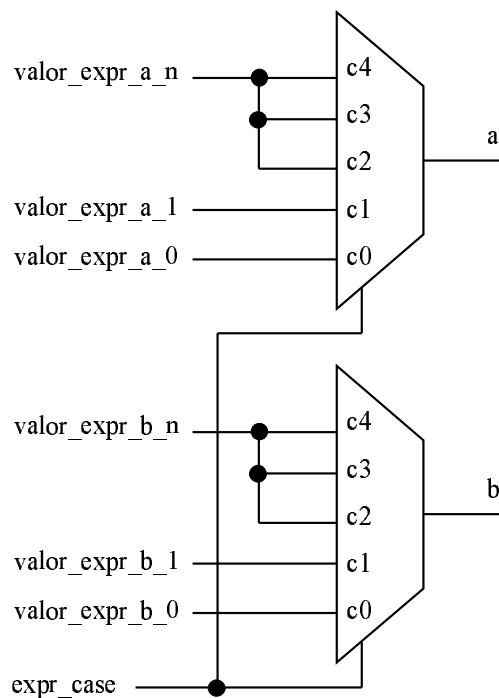


Figura 1.2: Solución a la Pregunta 1.b: sentencia **case** con su diagrama conceptual.

PREGUNTA 2 (3.5 puntos)

A continuación, se muestra la **entity** del circuito *restador completo de 1 bit*.

```
entity rest_completo is
  port ( res, acarreo_out : out std_logic;
        a, b, acarreo_in : in  std_logic );
end entity rest_completo;
```

- 2.a)** (1 punto) Escriba en VHDL una **architecture** que describa el *comportamiento* del circuito.
- 2.b)** (1 punto) Dibuje el diagrama del circuito restador completo de 1 bit al nivel de puertas lógicas. A continuación, escriba en VHDL la **entity** y la **architecture** de cada una de las puertas lógicas que componen el circuito que acaba de dibujar.
- 2.c)** (1.5 puntos) Escriba en VHDL una **architecture** que describa la *estructura* del circuito restador completo de 1 bit que ha dibujado, instanciando y conectando las puertas lógicas que ha diseñado anteriormente.

Solución a la Pregunta 2

La **architecture** describiendo el comportamiento del circuito se muestra en Código VHDL 1.1.

En la Figura 1.3 se muestra un circuito restador completo de 1 bit. Para su definición, se emplean puertas OR-exclusiva de 2 entradas (`xor2`), AND de dos entradas (`and2`), OR de tres entradas (`or3`) e inversor (`not1`). Las **entity** y las **architecture** de estas puertas lógicas se muestran en Código VHDL 1.2.

Para componer el circuito restador usando las puertas lógicas anteriores, es necesario instanciar los componentes necesarios y conectarlos. Para ello, es preciso escribir la **entity** de cada uno de los componentes, instanciar los componentes y describir la conexión entre ellos. El Código VHDL 1.3 describe la estructura del circuito restador completo.

```

-----
-- Restador completo de 1 bit
library IEEE;
use IEEE.std_logic_1164.all;
use IEEE.numeric_std.all;

architecture rest_completo_comport of rest_completo is
    signal result : unsigned (1 downto 0 );
begin
    result      <= ('0' & a) - ('0' & b) - ('0' & acarreo_in);
    acarreo_out <= result(1);
    res        <= result(0);
end architecture rest_completo_comport;
-----

```

Código VHDL 1.1: Descripción del comportamiento de un restador completo de un bit.

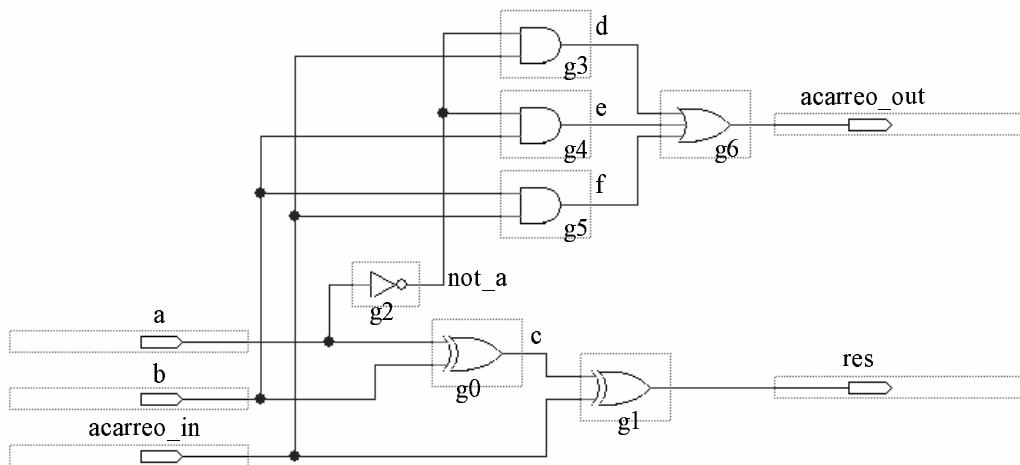


Figura 1.3: Diagrama de un circuito restador completo de 1 bit.

```

-----
-- Puerta OR exclusiva de 2 entradas.
library IEEE; use IEEE.std_logic_1164.all;

entity xor2 is port
  (y0      : out std_logic;
   x0,x1   : in  std_logic);
end entity xor2;

architecture xor2 of xor2 is
begin
  y0 <= x0 xor x1;
end architecture xor2;
-----

-----
-- Inversor de 1 entrada.
library IEEE; use IEEE.std_logic_1164.all;

entity not1 is port
  (y0 : out std_logic;
   x0 : in  std_logic);
end entity not1;

architecture not1 of not1 is
begin
  y0 <= not x0;
end architecture not1;
-----

-----
-- Puerta AND de 2 entradas.
library IEEE; use IEEE.std_logic_1164.all;

entity and2 is port
  (y0      : out std_logic;
   x0,x1   : in  std_logic);
end entity and2;

architecture and2 of and2 is
begin
  y0 <= x0 and x1;
end architecture and2;
-----

-----
-- Puerta OR de 3 entradas.
library IEEE; use IEEE.std_logic_1164.all;

entity or3 is port
  (y0      : out std_logic;
   x0,x1,x2 : in  std_logic);
end entity or3;

architecture or3 of or3 is
begin
  y0 <= x0 or x1 or x2;
end architecture or3;
-----

```

Código VHDL 1.2: Diseño de las puertas lógicas XOR2, NOT1, AND2 y OR3.

```

-----
-- Restador completo de 1 bit
library IEEE;
use IEEE.std_logic_1164.all;

architecture rest_completo_estruc of rest_completo is

    signal not_a, c, d, e, f : std_logic;

    -- Declaración de las clases de los componentes
    component xor2 is port
        ( y0          : out std_logic;
          x0, x1      : in  std_logic );
    end component xor2;

    component not1 is port
        ( y0          : out std_logic;
          x0          : in  std_logic );
    end component not1;

    component and2 is port
        ( y0          : out std_logic;
          x0, x1      : in  std_logic );
    end component and2;

    component or3 is port
        ( y0          : out std_logic;
          x0, x1, x2  : in  std_logic );
    end component or3;

begin

    -- Instanciación y conexión de los componentes
    g0 : component xor2 port map (c, a, b);
    g1 : component xor2 port map (res, c, acarreo_in);
    -- g2 : component not1 port map (not_a, a);
    g2 : component not1 port map (y0 => not_a, x0 => a);
    g3 : component and2 port map (d, not_a, acarreo_in);
    g4 : component and2 port map (e, not_a, b);
    g5 : component and2 port map (f, b, acarreo_in);
    g6 : component or3  port map (acarreo_out, d, e, f);

end architecture rest_completo_estruc;
-----

```

Código VHDL 1.3: Descripción de la estructura de un restador completo de un bit.

PREGUNTA 3 (3 puntos)

Se propone diseñar un circuito secuencial síncrono capaz de detectar cuándo recibe la secuencia “0100” por su entrada x . La **entity** del circuito se muestra a continuación.

```
entity detector is
  port( Y      : out std_logic;
        state : out std_logic_vector(2 downto 0);
        X      : in  std_logic;
        reset  : in  std_logic;
        clk    : in  std_logic );
end entity detector;
```

El circuito tiene una señal de reloj (clk), una entrada serie de un bit (x), una señal de reset asíncrona activa en ‘1’ ($reset$), una señal que indica el estado en que se encuentra el circuito ($state$) y una señal de salida de un bit (y).

La señal y se pone a ‘1’ si los últimos 4 bits recibidos por la entrada x se corresponden con la secuencia “0100”. La máquina no vuelve al estado inicial tras haber reconocido la secuencia, sino que detecta secuencias solapadas. La señal $reset$ pone el circuito en su estado inicial. Todos los cambios tienen lugar en el flanco de subida de la señal de reloj.

Escriba en VHDL la **architecture** que describe el comportamiento del circuito en términos de una máquina de Moore. Dibuje el diagrama de estados correspondiente al circuito que ha diseñado.

Solución a la Pregunta 3

El circuito diseñado tiene 5 estados (S_0 , S_1 , S_2 , S_3 y S_4). El circuito se encuentra en el estado S_0 cuando no se ha detectado ningún bit de la secuencia. Está en los estados S_1 , S_2 , S_3 o S_4 cuando se han detectado respectivamente 1, 2, 3 ó 4 primeros bits de la secuencia. En la Figura 1.4, se muestra el diagrama de estados de dicho circuito.

El código VHDL que describe el comportamiento del circuito en términos de una máquina de Moore, se muestra en Código VHDL 1.4–1.5.

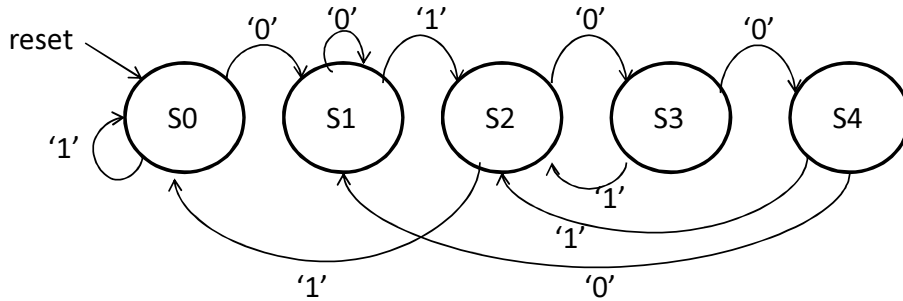


Figura 1.4: Diagrama de estados del circuito.

 ---Detector de la secuencia 0100

```

library IEEE;
use IEEE.std_logic_1164.all;

entity detector is
  port( Y      : out std_logic;
        state : out std_logic_vector(2 downto 0);
        X      : in std_logic;
        reset  : in std_logic;
        clk    : in std_logic);
end entity detector;

architecture detector of detector is
  signal internal_state: std_logic_vector(2 downto 0);
begin
  state <= internal_state;

  --Cálculo salida
  salida: process (internal_state) is
  begin
    case internal_state is
      when "100" => Y <= '1';
      when others => Y <= '0';
    end case;
  end process salida;
  
```

Código VHDL 1.4: Diseño del detector de secuencia.


```

--Cálculo del próximo estado
proximo_estado: process (clk, reset)
begin
  if (reset = '1') then --reset asíncrono
    internal_state <= "000";
  elsif (rising_edge(clk)) then
    case internal_state is
      when "000" => -- Estado actual: S0
        if X = '1' then
          internal_state <= "000";
        else
          internal_state <= "001";
        end if;
      when "001" => -- Estado actual: S1
        if X = '1' then
          internal_state <= "010";
        else
          internal_state <= "001";
        end if;
      when "010" => -- Estado actual: S2
        if X = '1' then
          internal_state <= "000";
        else
          internal_state <= "011";
        end if;
      when "011" => -- Estado actual: S3
        if X = '1' then
          internal_state <= "010";
        else
          internal_state <= "100";
        end if;
      when "100" => -- Estado actual: S4
        if X = '1' then
          internal_state <= "010";
        else
          internal_state <= "001";
        end if;
      when others=> -- Por completitud
        internal_state <= "000";
    end case;
  end if;
end process proximo_estado;

end architecture detector;
-----

```

Código VHDL 1.5: Continuación del diseño del detector de secuencia.

PREGUNTA 4 (2 puntos)

Programa en VHDL un banco de pruebas para el circuito secuencial que ha diseñado al contestar a la Pregunta 3. El programa de test debe primero resetear el circuito y a continuación cargar en el circuito, a través de la entrada x , los siete bits siguientes (en el orden indicado): '0', '1', '0', '0', '1', '0', '0'. Si los valores de la señal de salida de la UUT no coinciden con lo esperado, el programa de test debe mostrar el correspondiente mensaje.

Solución a la Pregunta 4

El banco de pruebas del detector de secuencia diseñado en la Pregunta 3 se muestra en Código VHDL 1.6 y en Código VHDL 1.7. Este banco de pruebas comprueba que al resetear el circuito éste pasa al estado "0000", cuya salida (y) vale '0'. Después, para cada carga del bit de entrada (x), comprueba que el circuito pasa al estado que le corresponde y que la salida (y) tiene el valor correcto. Finalmente, el programa muestra un mensaje con el número total de errores detectados.

```

-----
-- Banco de pruebas del detector
library IEEE;
use IEEE.std_logic_1164.all;

entity bp_detector is
end entity bp_detector;

architecture bp_detector of bp_detector is
    constant PERIODO : time := 100 ns; -- Reloj
    signal state : std_logic_vector(2 downto 0); -- Salidas UUT
    signal Y : std_logic;
    signal clk : std_logic := '0'; -- Entradas UUT
    signal reset, X : std_logic;

    component detector is
        port( Y : out std_logic;
              state : out std_logic_vector(2 downto 0);
              X : in std_logic;
              reset : in std_logic;
              clk : in std_logic);
    end component detector;

    -- Procedimiento para comprobar las salidas
    procedure comprueba_salidas
        (esperado_state : std_logic_vector(2 downto 0);
         actual_state : std_logic_vector(2 downto 0);
         esperado_Y : std_logic;
         actual_Y : std_logic;
         error_count : inout integer) is
    begin
        -- Comprueba state
        if (esperado_state /= actual_state ) then
            report "ERROR: Estado esperado (" &
                std_logic'image(esperado_state(2)) &
                std_logic'image(esperado_state(1)) &
                std_logic'image(esperado_state(0)) &
                "), estado actual (" &
                std_logic'image(actual_state(2)) &
                std_logic'image(actual_state(1)) &
                std_logic'image(actual_state(0)) &
                "), instante: " &
                time'image(now);
            error_count := error_count + 1;
        end if;
        -- Comprueba Y
        if (esperado_Y /= actual_Y ) then
            report "ERROR: Salida Y esperada (" &
                std_logic'image(esperado_Y) &
                "), salida actual (" &
                std_logic'image(actual_Y) &
                "), instante: " &
                time'image(now);
            error_count := error_count + 1;
        end if;
    end procedure comprueba_salidas;
end architecture bp_detector;

```

Código VHDL 1.6: Diseño del banco de pruebas del detector de secuencias.

```

begin
  -- Instanciar y conectar UUT
  uut : component detector port map
        (Y, state, X, reset, clk);

  reset <= '0', '1' after (PERIODO/4),
           '0' after (PERIODO/2);
  clk <= not clk after (PERIODO/2);
  gen_vec_test : process is
    variable error_count : integer := 0; -- Núm. errores
  begin
    report "Comienza la simulación";
    -- Vectores de test y comprobación del resultado
    X <= '0'; wait for PERIODO; -- 1
    comprueba_salidas("001", state, '0', Y, error_count);
    X <= '1'; wait for PERIODO; -- 2
    comprueba_salidas("010", state, '0', Y, error_count);
    X <= '0'; wait for PERIODO; -- 3
    comprueba_salidas("011", state, '0', Y, error_count);
    X <= '0'; wait for PERIODO; -- 4
    comprueba_salidas("100", state, '1', Y, error_count);
    X <= '1'; wait for PERIODO; -- 5
    comprueba_salidas("010", state, '0', Y, error_count);
    X <= '0'; wait for PERIODO; -- 6
    comprueba_salidas("011", state, '0', Y, error_count);
    X <= '0'; wait for PERIODO; -- 7
    comprueba_salidas("100", state, '1', Y, error_count);
    -- Informe final
    report "Hay " &
           integer'image(error_count) &
           " errores.";
  wait; -- Final del bloque process
end process gen_vec_test;
end architecture bp_detector;
-----

```

Código VHDL 1.7: Continuación del diseño del banco de pruebas del detector de secuencias.